

CUADERNO PARA ALUMNAS Y ALUMNOS

Numeración I

JUEGOS DE DADOS

Reglas del juego

- Se juega de a dos o más participantes.
- Necesitan un dado y un tablero para cada jugadora o jugador.
- Por turnos, cada jugadora o jugador tira el dado y marca en el tablero el puntaje que obtuvo. Pueden ir tachando o poner un papelito o una fichita.
- Gana quien completa primero el tablero.
¡A jugar!

Pueden jugar con distintos tableros y dados.

Si juegan con más de un dado se suman los puntajes de los dados.

Tableros para jugar



TABLERO C
PARA JUGAR CON DOS DADOS CON PUNTOS O NÚMEROS





X
2
3
4
5
6
7
8
9
10
11
12

TABLERO D
PARA JUGAR CON 3 DADOS CON PUNTOS O NÚMEROS




X
X
3
4
5
6
7
8
9
10
11
12
13
14
15
16
17
18

1. Valentín jugó con este tablero y tiró el dado. Tachá el número que le salió.



1
2
3
4
5
6

2. Nacho tachó estos números en su tablero. Dibujá las caras de los dados que le salieron.

1
X
3
X
X
6

3. Margarita jugó con este tablero. ¿Qué número se forma entre los dos dados que le salieron? Tachalo en el tablero.



4. Amelia jugó con este tablero y con tres dados. ¿Es cierto que el número que le salió ya está tachado en el tablero?



JUEGOS CON CARTAS

Reglas del juego:

- Se necesita un mazo de cartas españolas.
 - Se juega de a dos.
 - Se reparte el mazo en partes iguales.
 - Cada jugadora o jugador pone sus cartas en una pila boca abajo.
 - Dan vuelta una carta al mismo tiempo.
 - La jugadora o jugador que tiene la carta más alta gana la ronda y se lleva las dos cartas a otra pila.
 - Si las cartas que dan vuelta empatan, dan vuelta otra carta y quien tenga más puntos se lleva las cuatro cartas a su pila.
 - Gana la partida quien, al terminar, junte más cartas en su pila.
- ¡A jugar!

1. ¿Quién ganó esta ronda?



CARTA DE NINA



CARTA DE CECI

2. Esta es la carta de Alma. Dibujá una carta con la que Nina podría ganarle.



CARTA DE ALMA



CARTA DE NINA

3. A esta carta se le borraron los oros. Dibujalos.




4. Dibujá una carta que sea mayor que el siete de copas.




Pensar y explicar entre todas y todos

- ¿Cómo hacen para darse cuenta cuál es la carta ganadora?
- ¿Cómo se puede hacer para saber quién ganó?


1. Escribí el número dentro de cada moneda.



un peso



cinco pesos



diez pesos

2. ¿Cuál es el billete de cada nene?

		CINCUENTA PESOS
		CIEN PESOS
		VEINTE PESOS
		DIEZ PESOS

LOS NOMBRES DE LOS NÚMEROS

* SI NECESITÁS PODÉS PEDIRLE A ALGUIEN QUE TE LEA LOS NOMBRES DE LOS NÚMEROS.

								
1	2	3	4	5	6	7	8	9
UNO	DOS	TRES	CUATRO	CINCO	SEIS	SIETE	OCHO	NUEVE
10	20	30	40	50	60	70	80	90
DIEZ	VEINTE	TREINTA	CUARENTA	CINCUENTA	SESENTA	SETENTA	OCHENTA	NOVENTA

1. Estos números van de 10 en 10. Completá los que faltan.

10 - 20 - - 40 - 50 - - 70 - - 90 - 100

2. ¿Cuál de estos números es el **ochenta y tres**?

		
---	---	--



3. Escribí los nombres de estos números.

18

85

32

41

4. a- Manuel tiene **treinta** años. Completá su ficha de inscripción a un club.

FICHA DE INSCRIPCIÓN 2021	
NOMBRE	MANUEL
EDAD (EN NÚMEROS)	

b- Tomás tiene **veintiocho** años. Completá su ficha de inscripción al club.

FICHA DE INSCRIPCIÓN 2021	
NOMBRE	TOMÁS
EDAD (EN NÚMEROS)	

Pensar y explicar entre todas y todos

- ¿Ya conocían los nombres de todos estos números?
- Para los números que no conocían, ¿les ayudó mirar el cartel con información?
- ¿Qué números del cartel les sirvieron para saber cómo se lee cada uno?

ORDENAR NÚMEROS

1. ¿Cuál creés que es el cartel de precio de cada botella?



2. Ordená estos precios del más barato al más caro.



3. ¿Cuál de estos números es el mayor?



4. ¿Cuál de estos números es el menor?



EDADES EN ORDEN

1. Estas son las edades de Charo y de sus primas.



a- ¿Quién es la más grande?


b- ¿Quién es la más chica?

c- Ordená las edades de la más chica a la más grande.

2. ¿Cuál podrá ser la edad de cada uno?



3. Completá los carteles con las edades que creés que pueden tener estas mujeres.



4. Claudia tiene entre 50 y 60 años. ¿Qué edad podrá tener? Escribí tres edades posibles.

5. Carolina tiene entre 40 y 50 años. Es más chica que su hermana que tiene 46 años. ¿Cuántos años podrá tener?

Pensar y explicar entre todas y todos

- ¿Cómo se dan cuenta cuál es el número más grande? ¿En qué se fijan?
- Anoten algunos consejos para tener en cuenta cuando vuelvan a ordenar números.



JUEGO DE LA LOTERÍA

Al final de este material vas a encontrar cartones y números recortables para jugar.

Reglas del juego:

- Se juega de a dos o más personas.
 - Se necesitan los cartones de lotería y una bolsa con los números del 1 al 90.
 - Cada jugadora o jugador elige un cartón.
 - En cada vuelta, una jugadora o jugador va sacando números de la bolsa y los dice en voz alta.
 - Cada jugadora o jugador se fija si lo tiene en su cartón. Si lo encuentra, lo marca con un papelito o un poroto.
 - Gana la jugadora o el jugador que complete primero una línea.
 - Siguen jugando y gana quien completa primero el cartón.
- ¡A jugar!

1. Catalina eligió este cartón.

5			32	43	50	60	71	80
	17	20			55		72	
8		26	39		57	64		90

¿Cuáles de estos números pudo marcar?




2. A medida que van saliendo los números, Luca los marca en este cuadro.

	1	2	3	4	5	6	7	8	9
10	11	12	13	14	15	16	17	18	19
20	21	22	23	24	25	26	27	28	29
30	31	32	33	34	35	36	37	38	39
40	41	42	43	44	45	46	47	48	49
50	51	52	53	54	55	56	57	58	59
60	61	62	63	64	65	66	67	68	69
70	71	72	73	74	75	76	77	78	79
80	81	82	83	84	85	86	87	88	89
90									

- a- ¿Salió el veintiséis?
- b- ¿Salió el cuarenta y cinco?
- c- Marcá todos los números que terminan en ocho.
- d- Marcá todos los números de la fila del setenta.

Pensar y explicar entre todos

Alma cuenta cómo hace para encontrar el 63 en el cuadro. ¿Se les ocurre otra manera?



Para encontrar el **63** empiezo a contar desde el 1 y sigo 2, 3, 4... hasta que lo encuentro.



ANEXO


LOTERÍA: CARTONES Y NÚMEROS



5			32	43	50	60	71	80
	17	20			55		72	
8		26	39		57	64		90

4		25	32		51		70	
	14		36	45		66	77	
6	18			47	59			89

	10		38		50	65		80
1	18	29		47	55			
6	17	22		46			76	



		21			53	60	75	83
	16				57	67	71	89
4		27	31		52			84

	11	28	35	42	54			
	15	24		49	56		70	
3	13			43	50		77	

5	12			44	59	62		
9		25	36				72	81
	19	23			51		79	88

NÚMEROS PARA CORTAR Y PONER EN LA BOLSA



1	2	3	4	5	6	7	8	9	10
11	12	13	14	15	16	17	18	19	20
21	22	23	24	25	26	27	28	29	30
31	32	33	34	35	36	37	38	39	40
41	42	43	44	45	46	47	48	49	50
51	52	53	54	55	56	57	58	59	60
61	62	63	64	65	66	67	68	69	70
71	72	73	74	75	76	77	78	79	80
81	82	83	84	85	86	87	88	89	90